

# آزمون (هدیه) ۷ دی ۱۴۰۳

## ششم دبستان

تعداد کل سؤالها: ۴۵ سؤال

مدت زمان پاسخ‌گویی به آزمون: ۵۵ دقیقه

شماره ی سؤال	تعداد سؤال	نام درس
۱-۱۰	۱۰	ریاضی ششم
۱۱-۲۰	۱۰	علوم ششم
۲۱-۳۰	۱۰	فارسی ششم
۳۱-۳۵	۵	آموزش قرآن
۳۶-۴۰	۵	هدیه‌های آسمان
۴۱-۴۵	۵	مطالعات اجتماعی

طراحان	درس
مهزاد حسنی‌مقدم، علیرضا علیانی مقدم، ندا اسلامی‌زاده، الیاس اردان، زهرا یوسفی، ساناز نادری شیران، مجتبی مجاهدی	ریاضی
سیما افتخاری، آرش سلگی، محمد حبیبی، مهسا چهارمحالی، وحید مائوس‌زاده، محمدرضا احمدی	علوم
صالح احصائی، مبینا اصلیلی‌زاده، الهام رضایی، سهیلا چهره‌نگار، فائزه کاووسی	فارسی
صالح احصائی، فائزه کاووسی، سهیلا چهره‌نگار، الهام رضایی، زهرا مقتدری	قرآن و هدیه‌های آسمان
الهام رضایی سهیلا چهره‌نگار صالح احصائی مبینا اصلیلی‌زاده	مطالعات اجتماعی

نام درس	مسئول درس آزمون	ویراستاران آزمون	مسئولین درس مستندسازی	ویراستاران مستندسازی
ریاضی ششم	مهدی ملازمضانی	کیان صفری	الهه شهبازی	سجاد سلیمی معصومه صنعت‌کار
علوم ششم	سارا ابراهیمی	دریا رجبی	محیا عباسی	علی‌اکبر عباس‌زاده زینب باورنگین
فارسی ششم	صالح احصائی	آفرین ساجدی	فریبا رئوفی	مژده ابراهیمی امیرمحمد کماسی
قرآن و هدیه‌های آسمان			لیلا ایزدی	مجتبی حسینی صدرا پنجه‌پور
مطالعات اجتماعی				

گروه فنی تولید	مدیر تولید آزمون
	امیرحسین برادران
	مسئول دفترچه‌ی آزمون
	فرزانه میرزاکاظم
	امور کامپیوتری و صفحه‌آرا
	مهناز ستاری
	مدیر گروه مستندسازی
	محیا اصغری
	مسئول دفترچه‌ی مستندسازی
	الهه شهبازی

صفحه‌ی اینستاگرام مقطع ششم: kanoonir\_6d

کانال تلگرام ششم دبستان کانون: @kanoonir\_dabestan6

بنیاد علمی آموزشی قلم‌چی (وقف عام)

دفتر مرکزی: خیابان انقلاب - بین مینا و فلسطين - پلاک ۹۶۳ - ۶۱۴۶۳-۶۱



ریاضی: صفحه‌های ۱ تا ۷۳

زمان پاسخگویی: ۱۵ دقیقه

۱- یک قورباغه روی نقطه‌ی ۱۶- محور ایستاده است. اگر در هر پرش، این قورباغه ۳ واحد به سمت راست حرکت کند، قورباغه روی کدام نقطه هرگز قرار نمی‌گیرد؟  
(نمونه سوالات امتحانی دبستان معلم - شهرپاک)

- (۱) ۷-  
(۲) ۱-  
(۳) ۲  
(۴) ۴

۲- اگر عدد بیست و هشت میلیارد و هفت میلیون و هفده هزار و سی و شش را با عدد هشتاد و نه میلیارد و صد و بیست و پنج میلیون و هشتاد و هفت هزار و ده جمع کنیم، رقم یکان میلیون عدد به دست آمده کدام است؟  
(نمونه سوالات امتحانی دبستان رازی - تهران)

- (۱) ۴  
(۲) ۲  
(۳) ۶  
(۴) ۱

۳- ایلیا هندوانه‌ای به جرم  $۵\frac{۲}{۹}$  کیلوگرم خرید. اگر هندوانه‌ی ایلیا  $۲\frac{۵}{۱۲}$  کیلوگرم کم‌تر از هندوانه‌ی حمید جرم داشته باشد، جرم هندوانه‌ی حمید چند کیلوگرم است؟  
(نمونه سوالات امتحانی دبستان حاج محمود فیض - شیراز)

- (۱)  $۲\frac{۲۹}{۳۶}$   
(۲)  $۳\frac{۷}{۳۶}$   
(۳)  $۷\frac{۷}{۲۱}$   
(۴)  $۷\frac{۲۳}{۳۶}$

۴- حاصل عبارت زیر کدام است؟  
(نمونه سوالات امتحانی دبستان نور ایمان - تهران)

$$\frac{1\frac{1}{2} \times 1\frac{1}{3} \times 1\frac{1}{4} \times \dots \times 1\frac{1}{9}}{\frac{1}{2}}$$

- (۱) ۵  
(۲) ۱۰  
(۳)  $\frac{۵}{۲}$   
(۴) ۲۰

۵- کدام یک از اعداد اعشاری زیر از  $\frac{۳}{۴}$  بیشتر است؟  
(نمونه سوالات امتحانی دبستان سما - اردبیل)

- (۱) ۰/۰۸۹۱  
(۲) ۰/۸۰۰۱  
(۳) ۰/۴۳۹۷  
(۴) ۰/۰۹۹

«آزمون هدیه ششم دبستان»  
۷ دی ۱۴۰۳

۶- حاصل عبارت زیر، تقریباً کدام است؟ (تقسیم‌ها را تا دو رقم اعشار ادامه دهید).

(نمونه سوالات امتحانی ترنج - مشهد)

$$(43/7 \div 5) + (35/98 \div 21)$$

۱۰/۴۵ (۲)

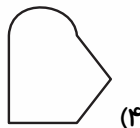
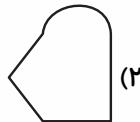
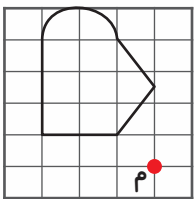
۸/۷ (۱)

۲۱/۷ (۴)

۱۱/۴۱ (۳)

۷- قرینه‌ی شکل زیر نسبت به نقطه‌ی «م»، کدام یک از گزینه‌های زیر است؟

(نمونه سوالات امتحانی ترنج - مشهد)



۸- کدام گزینه، چرخش ۱۸۰ درجه شکل زیر را در جهت عقربه‌های ساعت نشان می‌دهد؟

(نمونه سوالات امتحانی دبستان پویندگان - شهر بابک)





«آزمون هدیه ششم دبستان»  
۷ دی ۱۴۰۳

۹- مادر سارینا  $\frac{3}{5}$  کیلوگرم سیب زمینی خرید.  $\frac{0}{2}$  برابر آن را برای ناهار و  $\frac{0}{25}$  برابر باقی مانده را برای شام استفاده

(نمونه سوالات امتحانی دبستان پروین اعتصامی - پنجنورد)

کرد. چند کیلوگرم از سیب زمینی ها باقی مانده است؟

$\frac{1}{9}$  (۲)

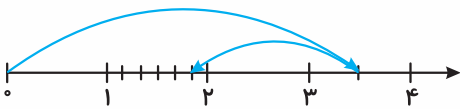
$\frac{2}{1}$  (۱)

$\frac{1}{41}$  (۴)

$\frac{1}{83}$  (۳)

(نمونه سوالات امتحانی دبستان پویندگان رسالت - مشهود)

۱۰- محور زیر، مربوط به کدام عبارت است؟



$\frac{1}{6} - \frac{1}{3}$  (۲)

$3\frac{1}{2} - 1\frac{5}{6}$  (۱)

$3\frac{1}{2} - 1\frac{2}{3}$  (۴)

$3\frac{2}{3} - 1\frac{1}{2}$  (۳)





علوم ششم- صفحه‌های ۱ تا ۴۶

زمان پاسخ‌گویی: ۱۵ دقیقه

۱۱- در کدام گزینه به ترتیب تعداد مواد طبیعی و مواد مصنوعی داخل پراتنز درست بیان نشده است؟

(نمونه سوالات امتحانی دبستان فرشتگان - کنگان)

- ۱) قرص (داروی شیمیایی) - کاغذ - اکسیژن - گل محمدی (۲ تا طبیعی - ۲ تا مصنوعی)
- ۲) شهاب سنگ - پنبه - چوب - آجر - سنگ (۴ تا طبیعی - ۱ مصنوعی)
- ۳) ماسه - کاغذ - فلز آهن - اکسیژن (۲ تا طبیعی - ۲ تا مصنوعی)
- ۴) سیمان - نیشکر - بنزین - چرم (۳ تا طبیعی - ۱ مصنوعی)

۱۲- کدام گزینه توضیح درستی را ارائه می‌کند؟

(نمونه سوالات امتحانی دبستان ره‌ما - خوزستان)

- ۱) اسیدها: آن‌ها را به دو دسته‌ی خوراکی و صنعتی دسته‌بندی می‌کنند که اسیدهای خوراکی را با مزه‌ی تلخ آن‌ها می‌شناسند.
- ۲) فلزها: همه‌ی آن‌ها رسانای جریان برق و گرما هستند و در برابر زنگ زدن مقاوم‌اند.
- ۳) امواج لرزه‌ای: از سنگ‌های سخت و متراکم، تندتر و از سنگ‌های نرم و کم‌تراکم، کندتر عبور می‌کند.
- ۴) آتشفشان نیمه‌فعال: فقط مواد جامد از دهانه‌ی آن‌ها خارج می‌شود، مانند دماوند و تفتان

۱۳- چند مورد از گزاره‌های زیر درباره‌ی زمین‌لرزه‌ها درست است؟

(نمونه سوالات امتحانی دبستان فرشتگان - کنگان)

- الف) یکی از پدیده‌های طبیعی است.
- ب) وقوع آن باعث آزاد شدن انرژی درونی زمین می‌شود.
- ج) همه‌ی زمین‌لرزه‌ها باعث خرابی در سطح زمین می‌شوند.
- د) حرکت قطعات سنگ‌کره روی خمیر کره می‌تواند باعث زمین‌لرزه شود.

۱) ۱ مورد

۲) ۲ مورد

۳) ۳ مورد

۴) ۴ مورد

۱۴- یک شرکت تولید مواد پلاستیکی می‌خواهد کیسه‌هایی تولید کند که برای حمل وسایل سنگین مناسب‌تر باشد، به نظر

(نمونه سوالات امتحانی دبستان بحر العلوم - تاکستان)

شما این پلاستیک‌ها از چه موادی ساخته شوند، بهتر است؟

- ۱) مواد اصلی - زیرا زیباتر است.
- ۲) مواد بازیافتی - زیرا هزینه‌ی کمتری دارد.
- ۳) مواد بازیافتی - زیرا در مصرف پلاستیک صرفه‌جویی می‌شود.
- ۴) مواد اصلی - زیرا مقاوم‌تر است.



«آزمون هدیه ششم دبستان»  
۷ دی ۱۴۰۳

۱۵- با توجه به تقسیم‌بندی لایه‌های درونی زمین بر اساس حالت مواد تشکیل‌دهنده، بیشترین ضخامت مربوط به کدام بخش است و ویژگی‌های آن بخش در کدام گزینه آمده است؟ (منظور از ضخامت در بخش مرکزی، شعاع آن بخش است.)  
(نمونه سوالات امتحانی دبستان رضوان - خدابنده)

- ۱) خمیر کره - حالت خمیری دارد و ذخایر نفت، گاز و زغال‌سنگ در این بخش قرار دارند.
- ۲) هسته‌ی خارجی - حالت جامد دارد و منشأ بیشتر آتش‌فشان‌ها است.
- ۳) هسته‌ی داخلی - حالت جامد دارد و جنس سنگ‌های آن بیشتر از آهن و نیکل تشکیل شده است.
- ۴) گوشته‌ی زیرین - حالت جامد دارد و جنس سنگ‌های آن با سنگ‌های پوسته و هسته متفاوت است.

۱۶- در کدام گزینه تعداد فواید و ضررهای آتش‌فشان‌ها داخل پرانتز درست بیان نشده است؟

(نمونه سوالات امتحانی دبستان نوآوران اندیشه - خواف)

- ۱) ایجاد سونامی - تشکیل دریاچه - ریزش خاکستر - جریان گدازه (۱ فایده - ۳ ضرر)
- ۲) انتشار گازهای سمی - مطالعه‌ی ساختمان درونی زمین - توسعه‌ی گردشگری - ایجاد زمین‌های کشاورزی (۲ فایده - ۲ ضرر)
- ۳) چشمه‌های آب گرم معدنی - ریزش باران‌های اسیدی - تغییرات آب‌وهوایی - تشکیل جزایر (۲ فایده - ۲ ضرر)
- ۴) ریزش خاکستر - انرژی زمین‌گرمایی - تشکیل مصالح ساختمانی - توسعه‌ی گردشگری (۳ فایده - ۱ ضرر)

۱۷- چه تعداد از موارد زیر در مورد نیرو درست بیان شده است؟

(نمونه سوالات امتحانی دبستان شفق مهر - آذربایجان شرقی)

آ: برای متوقف کردن جسم در حال حرکت باید به آن نیرو وارد کنیم.

ب: اثر نیرو به شکل‌های گوناگون می‌تواند ظاهر شود.

پ: اگر دو نیروی هم‌اندازه، در یک امتداد و در خلاف جهت هم باشند، همدیگر را خنثی می‌کنند.

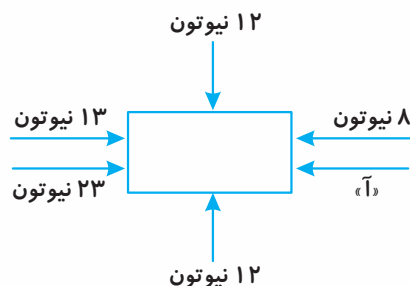
ت: زمانی جهت حرکت جسم تغییر می‌کند که به آن نیرو وارد شود.

- ۱) یک مورد      ۲) دو مورد      ۳) سه مورد      ۴) چهار مورد

۱۸- با توجه به شکل زیر، مقدار «آ» کدام گزینه باشد تا جسم به سمت چپ حرکت کند؟ (هریک از فلش‌ها، نشانه‌ی

(نمونه سوالات امتحانی دبستان مفتاح - مشهد)

نیروهای وارد بر جسم در جهت نشان داده شده هستند.)



۱) ۱۹ نیوتون

۲) ۲۳ نیوتون

۳) ۱۳ نیوتون

۴) ۲۹ نیوتون

«آزمون هدیه ششم دبستان»  
۷ دی ۱۴۰۳

۱۹- در کدام دسته از موارد زیر، وارد کردن نیرو به ترتیب از راست به چپ موجب شروع حرکت، تغییر جهت حرکت و

توقف جسم می‌شود؟  
(نمونه سوالات امتحانی دبستان روش نوین - مشهد)

- ۱) پرتاب کردن مایژیک به سمت بالا- رکاب زدن دوچرخه- ترمز کردن دوچرخه
- ۲) رها کردن تیر از کمان- حرکت لباس‌ها در ماشین لباسشویی در حال چرخش- مهار کردن توپ توسط دروازه‌بان
- ۳) رکاب زدن دوچرخه‌ی در حال حرکت- حرکت الاکلنگ- فشردن پدال ترمز
- ۴) هل دادن اتومبیل- برداشتن وزنه سنگین- ترمز کردن دوچرخه

۲۰- با توجه به موارد بیان شده از «مفاهیم نیرو»، به محمدرضا کمک کنید تا گزینه درست را پیدا کند.

(نمونه سوالات امتحانی دبستان نفیس - مشهد)

- آ) جسم همیشه در جهت نیروی وارد شده به آن، حرکت می‌کند.
  - ب) برای آن که اثر نیرو ظاهر شود، باید حداقل بیش از دو جسم بر هم اثر کنند.
  - پ) نیرو می‌تواند منجر به تغییر شکل و یا تغییر جهت حرکت اجسام شود؛ اما نمی‌تواند جسم متحرک را متوقف کند.
  - ت) به هر جسمی نیرو وارد کنیم، آن جسم نیز به ما نیرو وارد می‌کند.
- ۱) مورد «آ» همانند مورد «ب»، نادرست بیان شده است.
  - ۲) مورد «ت» نادرست بیان شده است؛ برای مثال، وقتی به توپ فوتبال ضربه می‌زنیم (نیرو وارد می‌کنیم)، توپ هیچ نیرویی به پای ما وارد نمی‌کند.
  - ۳) مورد «ب» برخلاف مورد «پ»، درست بیان شده است.
  - ۴) اگر به دیواری نیرو وارد کنیم و آن دیوار ساکن بماند، از ویژگی مورد «ت» استفاده نموده‌ایم و نیروی خالص وارد شده به دیوار عددی مثبت است. (مثبت: عددی بزرگ‌تر از عدد صفر)



زمان پاسخگویی: ۱۰ دقیقه

فارسی: صفحه‌های ۸ تا ۶۴ / نگارش: صفحه‌های ۹ تا ۵۶

۲۱- در کدام گزینه، معنی یک یا چند واژه نادرست بیان شده است؟

(نمونه سوالات امتحانی دبستان سرای دانش - پندر دیلم)

(۱) تجلی: پیدا شدن - افزایش: زیاد کند - احسان: نیکوکاری

(۲) سهل: ساده - می‌رمید: فرار می‌کرد - آزرده‌خاطر: ملول

(۳) نغمه: آهنگ - گرانبها: باارزش - دادگر: عادل

(۴) اشرف: گرامی‌تر - جان‌فشانی: جان‌دوستی - ناگوار: غیرقابل تحمل

۲۲- در کدام گزینه، نادرستی املايي وجود دارد؟

(نمونه سوالات امتحانی دبستان سرای دانش - پندر دیلم)

(۲) نصیحت - صادقانه - هیئت

(۱) لقرید - اتحاد - فضل

(۴) طمع - قصد فریب - تلفظ

(۳) صحنه - محاصره - غفلت

۲۳- در کدام گزینه شعر نوشته شده، نادرست است؟

(نمونه سوالات امتحانی دبستان ترنج دانش - مشهد)

(۱) لاف از سخن چو در توان زد / آن خشت بود که پر توان زد

(۲) گر بود اختیار جهانی به دست من / می‌ریختم تمام جهان را به پای تو

(۳) گر رسد دشمنی برای وطن / جان و دل، رایگان بیفشانیم

(۴) اشرف و انجب تمام ملل / یادگار همین دورانیم

۲۴- چه تعداد از کلمات زیر، می‌توانند با «ان» جمع بسته شوند؟

(نمونه سوالات امتحانی دبستان سرای دانش - پندر دیلم)

«مسجد - دشمن - اسلام - چشم - فرش - بار - ابرو»

(۲) یک

(۱) سه

(۴) دو

(۳) چهار



۲۵- در کدام گزینه، «نهاد» به درستی مشخص شده است؟

(نمونه سوالات امتحانی دبستان ترنج دانش - مشهد)

- (۱) نشانی داده‌اند از دیده‌ی خویش  
(۲) کم گوی و گزیده گوی، چون دُر  
(۳) مادر خویش را نگهبانیم  
(۴) فروریخت چون رود، خون از برش

۲۶- در کدام گزینه، آرایه‌ی تشبیه وجود دارد؟

(نمونه سوالات امتحانی دبستان پرتراخ ارچان - ارومیه)

- (۱) چرا زرد شد دهر بی‌مهرگان / ازیرا که چون کوه شد، آسمان  
(۲) من بدین خوبی و زیبایی ندیدم روی را / وین دلاویزی و دلبندی نباشد موی را  
(۳) ما را همه شب نمی‌برد خواب / ای خفته‌ی روزگار، دریاب  
(۴) معلمت همه شوخی (طنازی) و دلبری آموخت / جفا (ستم) و ناز و عتاب (سرزنش) و ستمگری آموخت

۲۷- هر یک از آثار زیر به ترتیب متعلق به کدام شاعر یا نویسنده است؟

(نمونه سوالات امتحانی دبستان بحر العلوم - تاکستان)

«انوار سهیلی - سندبادنامه - ترجمه‌ی تاریخ طبری - کیمیای سعادت - لیلی و مجنون»

- (۱) شیخ محمود شبستری - ظهیری سمرقندی - ابوعلی بلعمی - نادر ابراهیمی - سعدی  
(۲) واعظ کاشفی - ظهیری سمرقندی - ابوعلی بلعمی - امام محمد غزالی - نظامی  
(۳) مولوی - شیخ محمود شبستری - ظهیری سمرقندی - امام محمد غزالی - سعدی  
(۴) واعظ کاشفی - ابوعلی بلعمی - ظهیری سمرقندی - واعظ کاشفی - نظامی

۲۸- در بیت کدام گزینه، منادا وجود ندارد؟

(نمونه سوالات امتحانی دبستان ترنج دانش - مشهد)

- (۱) صبا به لطف بگو آن غزال رعنا را / که سر به کوه و بیابان تو داده‌ای ما را  
(۲) حافظا در کنج فقر و خلوت شب‌های تار / تا بود وردت دعا و درس قرآن، غم مخور  
(۳) همه گویند طاهر کس نداره / خدا یار منه، چه حاجت کس  
(۴) تو به صورت رفته‌ای ای بی‌خبر / زان ز شاخ معنی‌ای بی‌بار و بر



«آزمون هدیه ششم دبستان»  
۷ دی ۱۴۰۳

۲۹- بیت کدام گزینه مفهومی متفاوت با سایر ابیات دارد؟

(نمونه سوالات امتحانی دبستان روشن نویسن - یزد)

- ۱) سرّ من از ناله‌ی من دور نیست / لیک چشم و گوش را آن نور نیست
- ۲) عشق را خواهی که تا پایان بری / بس که بپسندید باید ناپسند
- ۳) تن ز جان و جان ز تن مستور (پوشیده) نیست / لیک گس را دید جان دستور نیست
- ۴) خرد را نیست تاب نور آن روی / برو از بهر او، چشم دگر جوی

(نمونه سوالات امتحانی دبستان ترنج دانش - مشهد)

۳۰- با توجه به متن زیر، کدام گزینه نا درست است؟

«من پیوسته بر زبان شما جاری هستم و با گوش، چشم، ذهن و بلکه جانتان همراهم. شما نیز بکوشید که همواره با هم و نگهبان میهن باشیم. وطن، خانه‌ی شماست و من عامل پیوستگی همه‌ی اعضای این خانه‌ام. شناسنامه و سند شناخت شما در هر جای ایران و در هر گوشه‌ی جهان، زبان فارسی است.»

- ۱) زبان فارسی با ذهن و روح ایرانیان در ارتباط است.
- ۲) در همه جای دنیا، مردم ایران را با زبان فارسی می‌شناسند.
- ۳) برای حفظ و نگهداری زبان فارسی، باید آن را در همه جای دنیا نشان دهیم.
- ۴) زبان فارسی باعث پیوستگی مردم ایران می‌شود.



آموزش قرآن - صفحه‌های ۲ تا ۴۰

زمان پاسخ‌گویی: ۵ دقیقه

۳۱- در کدام گزینه، یک یا هر دو واژه‌ی قرآنی نادرست معنا شده است؟

(نمونه سوالات امتحانی دبستان بحر العلوم - تاکستان)

- (۱) یُنْفِقُونَ: انفاق می‌کنند - قَمَر: ماه  
(۲) آت: برپا داشته است - میزان: ترازو  
(۳) بَصِير: شنوا - عیون: چشمه‌ها  
(۴) نِساء: زنان - اِنس: انسان

(نمونه سوالات امتحانی دبستان بحر العلوم - تاکستان)

۳۲- ترجمه‌ی کدام آیه‌ی شریفه نادرست بیان شده است؟

- (۱) «فِيهَا فَاكِهَةٌ وَالنَّخْلُ ذَاتُ الْأَكْمَامِ»: در زمین، میوه وجود دارد و درختان خرما که شکوفه دارند.  
(۲) «إِنَّ اللَّهَ هُوَ الرَّزَّاقُ ذُو الْقُوَّةِ الْمَتِينُ»: خدا به مخلوقاتش روزی می‌دهد و او قوی و پابرجاست.  
(۳) «وَجَاهِدُوا بِأَمْوَالِهِمْ وَأَنْفُسِهِمْ فِي سَبِيلِ اللَّهِ»: و جهاد نمودند با اموالشان و جان‌هایشان در راه خدا.  
(۴) «وَفِي السَّمَاءِ رِزْقُكُمْ وَمَا تَوَعَّدُونَ»: و روزی شما در زمین است و نیز آنچه وعده داده شده‌اید.

۳۳- با توجه به آیه‌ی زیر، هدف از آفرینش گروهی انسان‌ها و ملاک برتری انسان‌ها بر یکدیگر به ترتیب کدام است؟

(نمونه سوالات امتحانی دبستان ره‌آورد - حویق)

«وَجَعَلْنَاكُمْ شُعُوبًا وَقَبَائِلَ لِتَعَارَفُوا...»

- (۱) شناخت یکدیگر - تقوا  
(۲) شناخت خداوند - دانش و آگاهی  
(۳) عبادت خداوند - تقوا  
(۴) شناخت یکدیگر - دانش و آگاهی

۳۴- مفهوم اصلی آیه‌ی زیر در کدام گزینه آمده است؟

(نمونه سوالات امتحانی دبستان ره‌آورد - حویق)

«إِنَّا كُلَّ شَيْءٍ خَلَقْنَاهُ بِقَدَرٍ»


- (۱) قدرت بی‌پایان خدا  
(۲) نظم در آفرینش  
(۳) شکر مخلوقات خداوند  
(۴) ناتوانی انسان‌ها در تسبیح خداوند

۳۵- مفهوم مصراع اول بیت زیر با آیه‌ی کدام گزینه متناسب است؟

(نمونه سوالات امتحانی دبستان ره‌آورد - حویق)

«عیب‌جویان از سکوت کس برون آرند عیب / وز لباسش هم برون آرند پنهان در لباس»

- (۱) «وَلَا تَنَابَزُوا بِالْأَلْقَابِ»  
(۲) «إِنَّمَا الْمُؤْمِنُونَ إِخْوَةٌ»  
(۳) «لَا تَلْمِزُوا أَنْفُسَكُمْ»  
(۴) «وَلَا تَجَسَّسُوا»



هدیه‌های آسمان - صفحه‌های ۸ تا ۵۹

زمان پاسخ‌گویی: ۵ دقیقه

۳۶- کدام مورد یا موارد نادرست هستند؟

(نمونه سوالات امتحانی دبستان محراب - ساوه)

- (الف) دعای کمیل از امام علی (ع) است و معمولاً شب‌های جمعه خوانده می‌شود.  
 (ب) بعد از پیامبر (ص)، معاویه به جنگ با امام حسین (ع) پرداخت.  
 (ج) عبارت «در کار دیگران تجسس نکنید» نوعی امر به معروف است.  
 (۱) «الف» و «ب»  
 (۲) «ب» و «ج»  
 (۳) فقط «ب»  
 (۴) «الف» و «ج»

۳۷- با توجه به عبارات زیر، کدام گزینه صحیح است؟

(نمونه سوالات امتحانی دبستان پرتان دانش - پوهان)

- (الف) نام اسب امام حسین (ع)، ذوالجلال است.  
 (ب) شیخ حسن حلّی در حال صلوات فرستادن بود که امام زمان (عج) را دید.  
 (ج) دوران غیبت صغری، ۶۹ سال طول کشید.  
 (د) در دوران غیبت امام زمان (عج)، پنج نفر به نوبت جانشین ایشان شدند.  
 (۱) موارد «الف» و «ج» نادرست و موارد «ب» و «د» درست هستند.  
 (۲) موارد «الف» و «ب» درست و موارد «ج» و «د» نادرست هستند.  
 (۳) موارد «الف»، «ب» و «د» نادرست و مورد «ج» درست است.  
 (۴) موارد «ب»، «ج» و «د» نادرست و مورد «الف» درست است.

۳۸- کدام گزینه نادرست است؟

(نمونه سوالات امتحانی دبستان فرشتگان - چهارم)

- (۱) هدف امام حسین (ع) از قیام کربلا، رسیدن به حکومت و شکست دادن یزید بود.  
 (۲) یزید می‌خواست دین اسلام را ریشه‌کن کند و آن را نابود سازد.  
 (۳) بعد از شهادت امام حسین (ع)، مردم در مقابل یزید ایستادند.  
 (۴) حضرت زینب (س)، خواهر امام حسین (ع)، پیام‌رسان کربلا بود.

۳۹- خداوند در قرآن کریم می‌فرماید: «خداوند نعمت بزرگی به مؤمنان بخشید.» در کدام گزینه به این نعمت بزرگ اشاره

(نمونه سوالات امتحانی دبستان فدک - نور)

شده است؟

- (۱) «وَ أَنْزَلْنَا مَعَهُمُ الْكِتَابَ وَ الْمِيزَانَ»  
 (۲) «أَنْ اَعْبُدُوا اللَّهَ»  
 (۳) «أُمَّةٌ يَدْعُونَ إِلَى الْخَيْرِ»  
 (۴) «إِذْ بَعَثَ فِيهِمْ رَسُولًا مِنْ أَنْفُسِهِمْ»  
 ۴۰- خداوند در قرآن، در پاسخ به کسانی که به قیامت و زنده شدن مردگان شک دارند، چه می‌فرماید؟

(نمونه سوالات امتحانی دبستان سعادت - خرامه)

- (۱) «وَ الْآخِرَةُ خَيْرٌ وَ أَبْقَى»  
 (۲) «أَأَنْتُمْ أَشَدُّ خَلْقًا أَمْ السَّمَاءُ بَنَاهَا»  
 (۳) «فَاكثِرُوا ذِكْرَ النَّشُورِ»  
 (۴) «لَمْ يَلِدْ وَ لَمْ يُولَدْ»



### زمان پاسخ‌گویی: ۵ دقیقه

### مطالعات اجتماعی- صفحه‌های ۱۱ تا ۸۲

(نمونه سوالات امتحانی دبستان عارف - تهران)

۴۱- کدام گزینه در مورد حکومت صفویه نادرست است؟

- ۱) صفویان مذهب سنی را مذهب رسمی کشور اعلام کردند.
- ۲) برخی کتیبه‌های مسجد امام به قلم استاد علیرضا عباسی نوشته شده است.
- ۳) مسجد شیخ لطف‌الله، به دستور شاه عباس صفوی ساخته شد.
- ۴) دشمنان صفویه در غرب، عثمانی‌ها و در شرق، ازبکان بودند.

(نمونه سوالات امتحانی دبستان حاتم - مشهد)

۴۲- چه تعداد از موارد زیر نادرست است؟

- الف) دین اسلام از سرزمین عربستان طلوع کرد.
- ب) قبل از رحلت پیامبر (ص)، اسلام در خارج از شبه‌جزیره‌ی عربستان گسترش یافت.
- ج) اروپاییان سهم بسیار بزرگی در گسترش اسلام و پیشرفت‌های علمی داشتند.
- د) دانشگاه جندی‌شاپور در اهواز در زمان ساسانیان بنیان‌گذاری شده بود.

- |        |       |
|--------|-------|
| ۱) صفر | ۲) یک |
| ۳) دو  | ۴) سه |

۴۳- کدام گزینه در مورد تصمیم‌گیری نادرست است؟

(نمونه سوالات امتحانی دبستان ۲۲ بهمن - ارومیه)

- ۱) هنگام تصمیم‌گیری، اولین کاری که باید انجام دهیم این است که درباره‌ی موضوع با دیگران مشورت کنیم.
- ۲) بعد از این که فهمیدیم راه‌حل‌های متفاوتی وجود دارد، باید نتیجه‌ی هر انتخاب را پیش‌بینی کنیم.
- ۳) در آخرین مرحله از تصمیم‌گیری، بهترین راه را انتخاب می‌کنیم.
- ۴) علاوه بر تصمیم‌گیری ناگهانی و بدون فکر، تصمیم‌گیری را به زمان آینده موکول کردن نیز کار صحیحی نیست.





«آزمون هدیه ششم دبستان»  
۷ دی ۱۴۰۳

۴۴- عبارت زیر با کدام حدیث امام علی (ع) ارتباط دارد؟

(نمونه سوالات امتحانی دبستان ترنج دانش - مشهد)

«مودت (دوستی) اهل صفا، چه در روی و چه در قفا (پشت سر) / نه چنان کز پست عیب گیرند و پیشت بیش میرند»

۱) کسی را برای دوستی انتخاب کن که تو را از بدی‌ها و کارهای نامناسب باز دارد.

۲) دوست کسی است که در پشت سر هم صادق باشد.

۳) هر کس ادب ندارد، عقل هم ندارد.

۴) بدترین افراد کسانی هستند که بین دوستان جدایی می‌اندازند.

(نمونه سوالات امتحانی دبستان شهید ناهیدی - تهران)

۴۵- کدام گزینه نادرست است؟

۱) موادی مانند بذر و کود، از جمله عوامل انسانی مؤثر در کشاورزی هستند.

۲) خرما، گوجه‌فرنگی و هویج، از محصولات زراعتی هستند.

۳) بیش از نیمی از برنج کشور ما، در استان‌های شمالی کشور تولید می‌شود.

۴) سیب از جمله محصولاتی است که در سردخانه نگهداری می‌شود و بعد با کامیون و وانت به میدان‌های میوه و تره‌بار می‌رود.