

تاریخ آزمون

جمعه ۱۴۰۳/۰۹/۱۶

سوالات آزمون دفترچه شماره (۱) دوره دوم متوسطه پایه دهم انسانی

نام و نام خانوادگی:	شماره داوطلبی:
تعداد سوال: ۸۰	مدت پاسخگویی: ۸۵ دقیقه

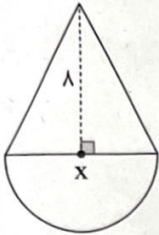
عناوین مواد امتحانی آزمون گروه آزمایشی علوم انسانی، تعداد سوالات و مدت پاسخگویی

ردیف	مواد امتحانی	تعداد سوال	شماره سوال		مدت پاسخگویی
			از	تا	
۱	ریاضیات	۱۰	۱	۱۰	۱۵ دقیقه
۲	اقتصاد	۱۰	۱۱	۲۰	۱۰ دقیقه
۳	علوم و فنون ادبی	۱۰	۲۱	۳۰	۱۰ دقیقه
۴	زبان عربی (اختصاصی)	۱۰	۳۱	۴۰	۱۰ دقیقه
۵	تاریخ	۱۰	۴۱	۵۰	۱۰ دقیقه
۶	جغرافیا	۱۰	۵۱	۶۰	۱۰ دقیقه
۷	جامعه‌شناسی	۱۰	۶۱	۷۰	۱۰ دقیقه
۸	منطق	۱۰	۷۱	۸۰	۱۰ دقیقه

ریاضیات



۱- در شکل زیر یک نیم‌دایره به قطر x به قاعده یک مثلث با ارتفاع ۸ متصل است. اگر مساحت نیم‌دایره ۶ واحد از مساحت مثلث بیشتر باشد، مجموع مساحت‌های آن‌ها چقدر است؟ ($\pi = 3$)



- ۱۰۶ (۱)
- ۱۰۲ (۲)
- ۱۱۶ (۳)
- ۱۱۲ (۴)

۲- قطر دایره‌ای پنج برابر ضلع یک مربع است. اگر مجموع مساحت آن‌ها برابر ۷۹ باشد، مجموع محیط‌های آن‌ها چقدر است؟ ($\pi = 3$)

- ۲۰ (۱)
- ۲۴ (۲)
- ۲۸ (۳)
- ۳۸ (۴)

۳- در معادله درجه دوم $2x^2 - (2k+1)x + k = 0$ اگر حاصل ضرب ریشه‌ها برابر ۱ باشد، ریشه بزرگ‌تر معادله کدام است؟

- ۲ (۱)
- ۱ (۲)
- ۴ (۳)
- ۳ (۴)

۴- اگر دو ریشه معادله $x^2 + (k-3)x - (2k-1) = 0$ قرینه یک‌دیگر باشند، حاصل ضرب آن‌ها کدام است؟

- ۷ (۱)
- ۷ (۲)
- ۵ (۳)
- ۵ (۴)

۵- هشتاد کیلوگرم محلول آب و نمک با غلظت ۲۵٪ داریم. اگر ۲۵٪ آب این محلول را تبخیر کنیم، باید چند کیلوگرم نمک به آن اضافه شود تا درصد نمک آن به ۶۰ برسد؟

- ۱۱/۵ (۱)
- ۱۵/۵ (۲)
- ۱۷/۵ (۳)
- ۱۹/۵ (۴)

۶- علی و محمد اگر با هم همکاری کنند، دیوار مدرسه را در ۱۲ ساعت رنگ می‌زنند، از طرفی می‌دانیم اگر علی به تنهایی دیوار را رنگ کند، ۱۸ ساعت زودتر از حالتی که محمد به تنهایی کار کند، کار تمام می‌شود. سرعت رنگ‌آمیزی علی چند برابر سرعت رنگ‌آمیزی محمد است؟

- ۲ (۱)
- ۲/۵ (۲)
- ۱/۵ (۳)
- ۴ (۴) سرعت‌ها برابر است.

۷- تحت کدام یک از شرایط زیر رابطه $f = \{(2a-1, b), (3a+2, a+2)\}$ تابع نیست؟

- ۱) $a = -3, b = -1$
- ۲) $a \neq -3, b = -1$
- ۳) $a \neq -3, b \neq -1$
- ۴) $a = -3, b \neq -1$

۸- اگر رابطه $f = \{(3, 5), (4, 6), (x, 12), (3, x^2 - 8x + 20)\}$ یک تابع باشد، مجموع مقادیر ممکن برای x کدام است؟

- ۳ (۱)
- ۵ (۲)
- ۸ (۳)
- ۲ (۴)

۹- اگر $f(x) = 5x + 3 - f(1)$ ، آن‌گاه حاصل $f(2) + f(3)$ کدام است؟

- ۱۷ (۱)
- ۱۹ (۲)
- ۲۱ (۳)
- ۲۳ (۴)

۱۰- با توجه به تابع f ، مقدار a کدام می‌تواند باشد؟

- ۴ (۱)
- ۵ (۲)
- ۶ (۳)
- ۳ (۴)

x	۰	۱	۲	$2a+1$
y	۱	۴	۹	۱۴۴

اقتصاد



۱۱- کدام مورد پاسخ صحیح و کامل سؤالات زیر است؟

الف) انگیزه پذیرش خطرات توسط کارآفرینان در کدام گزینه آمده است؟

ب) کدام گزینه در مورد «مراحل راه‌اندازی» در تعاونی‌ها درست ذکر شده است؟

ج) خریداران عمده کالا و خدمات معمولاً برگزار می‌کنند.

۱) الف: شجاعت و تدبیر برای راه‌اندازی فعالیت اقتصادی جدید ب: متفاوت با شرکت‌ها ج: مزایده

۲) الف: کشف راه‌های جدید برای تولید و عرضه محصولات از طریق نوآوری ب: متفاوت با شرکت‌ها ج: مناقصه

۳) الف: احتمال موفقیت و سودآوری کسب و کار راه‌اندازی شده ب: کم و بیش مشابه با شرکت‌ها ج: مناقصه

۴) الف: سودرسانی به مردم از طریق تولید کالا و خدمات ب: کم و بیش مشابه با شرکت‌ها ج: مزایده

۱۲- با توجه به اطلاعات ارائه‌شده، نتیجه عملکرد سالیانه بنگاه اقتصادی آقای هاشمی که به تولید پیراهن مشغول است، با فروش سالیانه ۴۵۰۰ جفت کفش و هر جفت به ارزش ۲۵۰,۰۰۰ تومان کدام است؟

اجاره‌بهای ماهیانه کارگاه تولیدی	۱۲۰,۰۰۰,۰۰۰ ریال
حقوق متوسط ماهیانه ۴ کارگر هر کدام به ارزش	۶,۵۰۰,۰۰۰ تومان
خرید مواد اولیه مورد نیاز سالیانه کارگاه	۱,۵۳۰,۰۰۰,۰۰۰ ریال
هزینه سالیانه خرید ماشین برای صاحب بنگاه تولیدی	۲۵۶,۰۰۰,۰۰۰ تومان
هزینه استهلاک سالیانه ماشین‌های کارگاه	۲۵ درصد حقوق سالیانه کارمندان

۱) ۱۸۲,۰۰۰,۰۰۰ تومان سود ۲) ۴۱۲,۴۰۰,۰۰۰ تومان سود ۳) ۴۱۲,۴۰۰,۰۰۰ تومان ضرر ۴) ۱۸۲,۰۰۰,۰۰۰ تومان ضرر

۱۳- کدام گزینه متضمن پاسخ صحیح و کامل سؤالات زیر است؟

الف) در صورت برآورده شدن نیاز یک کشور به وسیله واردات، کدام مطلب صادق است؟

ب) در علم اقتصاد، به چه کسی «کارآفرین» می‌گویند؟

ج) یک شرکت بهتر است مرز امکانات تولید، به تولید کالا بپردازد.

۱) الف: این کشور با این‌که وارداتی انجام داده، اما هنوز هم با کمیابی منابع مواجه خواهد بود. ب: بینشی برای دیدن فرصت‌های کسب و کار دارد که دیگران از مشاهده آن ناتوانند و یا به ذهنشان خطور نمی‌کند. ج: بالای

۲) الف: این کشور با این‌که وارداتی انجام داده، اما هنوز هم با کمیابی منابع مواجه خواهد بود. ب: با نوآوری و خطرپذیری، محصولات جدیدی تولید و عرضه می‌کند یا راه‌های جدیدی برای تولید کشف می‌کند. ج: بر روی

۳) الف: مشکلات مربوط به کمیابی در این کشور با توجه به بده - بستان حل خواهد شد. ب: شجاعتی برای شروع یک سرمایه‌گذاری جدید دارد که دیگران فاقد آن هستند. ج: بر روی

۴) الف: مشکلات مربوط به کمیابی در این کشور با توجه به بده - بستان حل خواهد شد. ب: ایده‌های خود را امیدوارانه به کسب و کارهای سودآور تبدیل می‌کند. ج: بالای

۱۴- کدام مورد پاسخ صحیح و کامل سؤالات زیر است؟

الف) کدام‌یک از انواع هزینه‌ها در تصمیم‌گیری‌های ما نباید تأثیرگذار باشد؟

ب) منظور از کارایی، یعنی

ج) نحوه مالکیت سهامداران شرکت سهامی به چه صورت است؟

د) در کشور ما، «شرکت توانیر» دارای کدام‌یک از انواع بازار است؟

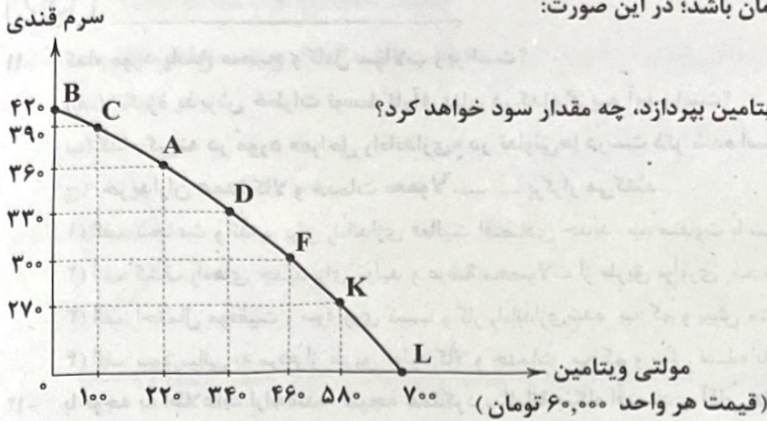
۱) الف: هزینه هدررفته ب: استفاده درست از منابع موجود ج: هر کس با خرید سهام شرکت به سهامدار آن تبدیل می‌شود که به اندازه سهمش مالکیت قطعی آن را دارد و در تمام منافع سهام است. د: انحصاری

۲) الف: هزینه فرصت ب: حداقل استفاده از منابع موجود ج: هر کس با خرید سهام شرکت به سهامدار آن تبدیل می‌شود که به اندازه سهمش مالکیت نسبی آن را دارد و در تمام منافع به همان اندازه سهام است. د: رقابتی

۳) الف: هزینه هدررفته ب: بیشترین استفاده از منابع موجود ج: هر کس با خرید سهام شرکت به سهامدار آن تبدیل می‌شود که به اندازه سهمش مالکیت نسبی آن را دارد و در منافع و مسئولیت‌ها به همان اندازه سهام است. د: انحصاری

۴) الف: هزینه فرصت ب: استفاده بهینه از منابع موجود ج: هر کس با خرید سهام شرکت به سهامدار آن تبدیل می‌شود که به اندازه سهمش مالکیت قطعی آن را دارد و در منافع و مسئولیت‌ها به همان اندازه سهام است. د: رقابتی

۱۵- در صورتی که PPF زیر مربوط به یک شرکت دارویی باشد و سود تولید هر واحد قرص مولتی ویتامین به صورت بسته‌ای ۲۵ هزار تومان و سود حاصل از تولید سِزِم‌های قندی هر واحد ۱۵ هزار تومان باشد: در این صورت:



الف) حرکت از نقطه A به F چقدر هزینه فرصت دارد؟

ب) در صورتی که شرکت به صورت کامل به تولید مولتی ویتامین بپردازد، چه مقدار سود خواهد کرد؟

(۱) الف: ۲۴۰ واحد ب: ۴۲,۰۰۰,۰۰۰

(۲) الف: ۶۰ واحد ب: ۱۷,۵۰۰,۰۰۰

(۳) الف: ۲۴۰ واحد ب: ۱۷,۵۰۰,۰۰۰

(۴) الف: ۶۰ واحد ب: ۴۲,۰۰۰,۰۰۰

۱۶- کدام مورد پاسخ صحیح و کامل سوالات زیر است؟

الف) هدف اصلی از ایجاد تعاونی‌ها چیست؟

ب) علت بده - بستان افراد بین گزینه‌های خود کدام است؟

ج) افزایش قیمت در یک کالا چه تأثیری در تقاضای کالای مکمل دارد؟

(۱) الف: بهبود شرایط افراد جامعه و عرضه ارزان‌تر محصولات برای عموم ب: کمیابی در امکانات و داشته‌ها ج: موجب کاهش عرضه آن می‌شود.

(۲) الف: بهبود شرایط افراد جامعه و عرضه ارزان‌تر محصولات برای عموم ب: عدم استفاده همزمان و دائمی از منابع ج: موجب کاهش قیمت آن می‌شود.

(۳) الف: تأمین نیازمندی‌های اعضا و کمک به بهبود وضعیت اقتصادی آن‌ها ب: عدم استفاده همزمان و دائمی از منابع ج: موجب افزایش قیمت آن می‌شود.

(۴) الف: تأمین نیازمندی‌های اعضا و کمک به بهبود وضعیت اقتصادی آن‌ها ب: کمیابی در امکانات و داشته‌ها ج: موجب کاهش مصرف آن می‌شود.

۱۷- کدام گزینه به ترتیب درست (ص) یا نادرست (غ) بودن عبارتهای زیر را به درستی نشان می‌دهد؟

الف) ممکن است با صرفه‌جویی و افزایش بهره‌وری، هزینه تولید را بدون این‌که از میزان تولید کم کنیم، کاهش دهیم.

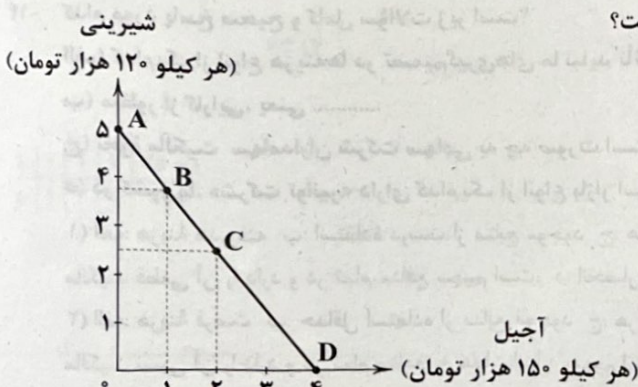
ب) امکان افزایش سرمایه و تأمین مالی بانکی، از ویژگی‌های کسب و کار شخصی می‌باشد.

ج) مقایسه منافع و هزینه‌ها بخشی از تصمیم‌گیری منطقی است اما بهترین تصمیم به میزان سرمایه شما بستگی دارد.

د) رفتار عرضه‌کنندگان و تقاضاکنندگان در بازار در مقابل هم صورت می‌گیرد.

(۱) ص - غ - غ - ص (۲) غ - ص - ص - غ (۳) ص - ص - غ - ص (۴) غ - غ - ص - ص

۱۸- با توجه به نمودار خط بودجه آقای سعیدی:



الف) میزان بودجه ایشان برای خرید آجیل و یا شیرینی چند تومان است؟

ب) با حرکت از نقطه B به C چه اتفاقی می‌افتد؟

ج) نقطه D بیانگر کدام موضوع است؟

(۱) الف: ۵۵۰ هزار تومان ب: با توجه به بودجه محدودمان نمی‌توانیم

حرکت کنیم. ج: تمام بودجه صرف خرید آجیل می‌شود.

(۲) الف: ۶۰۰ هزار تومان ب: از میزان خرید شیرینی کاسته و به آجیل

اضافه می‌شود. ج: تمام بودجه صرف خرید آجیل می‌شود.

(۳) الف: ۶۰۰ هزار تومان ب: با توجه به بودجه محدودمان نمی‌توانیم حرکت

کنیم. ج: این نقطه جایی است که بودجه ما برای خرید کافی نیست.

(۴) الف: ۵۵۰ هزار تومان ب: از میزان خرید شیرینی کاسته و به آجیل اضافه می‌شود. ج: این نقطه جایی است که بودجه ما برای خرید کافی نیست.

۱۹- کدام گزینه مبین پاسخ درست و کامل سؤالات زیر است؟

(الف) علت جابه‌جا شدن مکان هندسی نقطه تقاضا روی منحنی به سمت چپ و بالا چیست؟

(ب) به ترتیب «به میدان آوردن پس انداز و خوش‌نامی با شجاعت و تدبیر» و «داشتن توانایی حل مسئله» به کدام یک از ویژگی‌های مشترک کارآفرینان موفق اشاره دارد؟

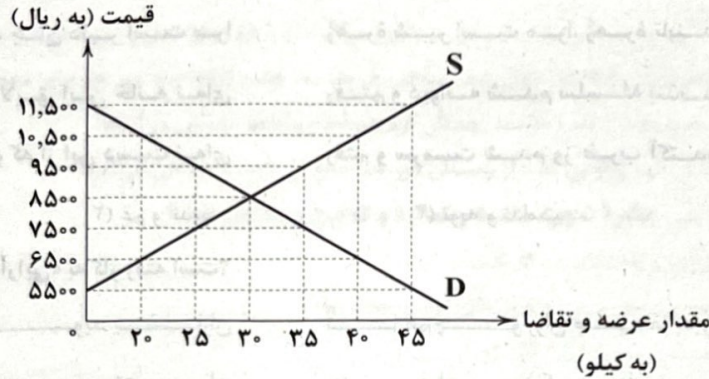
(۱) الف: کاهش قیمت و افزایش مقدار مصرف و تقاضای یک کالا ب: خوش‌بین - پراگیزه

(۲) الف: افزایش قیمت و کاهش مقدار مصرف و تقاضای یک کالا ب: ریسک‌پذیر - سازمان‌دهنده

(۳) الف: افزایش قیمت و کاهش مقدار مصرف و تقاضای یک کالا ب: ریسک‌پذیر - پراگیزه

(۴) الف: کاهش قیمت و افزایش مقدار مصرف و تقاضای یک کالا ب: خوش‌بین - سازمان‌دهنده

۲۰- نمودار زیر، بیانگر مقادیر عرضه و تقاضای یک کالا در قیمت‌های مختلف است. با توجه به آن:



(الف) در قیمت ۱۱,۵۰۰ ریال، کمبود تقاضا نسبت به مقدار تقاضای تعادلی چقدر است؟

(ب) در قیمت ۷۵,۰۰۰ ریال و ۱۰,۵۰۰ ریال، به ترتیب مقدار مازاد تقاضا و کمبود تقاضا کدام است؟

(ج) در کدام سطح از قیمت و مقدار، دریافتی تولیدکننده به حداکثر می‌رسد و مقدار آن کدام است؟

(د) کدام عامل موجب از بین رفتن فاصله بین عرضه و تقاضا و هماهنگی رفتار اقتصادی تولیدکننده و مصرف‌کننده می‌شود؟

(۱) الف: ۳۰ ب: ۲۰ - ۱۰ ج: ۱۱,۵۰۰ و ۴۵ - ۵۱۷,۵۰۰ د: افزایش قیمت از ۸۵,۰۰۰ ریال به ۹۵,۰۰۰ ریال

(۲) الف: ۳۰ ب: ۲۰ - ۱۰ ج: ۸۵,۰۰۰ و ۳۰ - ۲۵۵,۰۰۰ د: کاهش قیمت از ۹۵,۰۰۰ ریال به ۸۵,۰۰۰ ریال

(۳) الف: ۱۵ ب: ۲۰ - ۱۰ ج: ۱۱,۵۰۰ و ۴۵ - ۵۱۷,۵۰۰ د: افزایش قیمت از ۸۵,۰۰۰ ریال به ۹۵,۰۰۰ ریال

(۴) الف: ۱۵ ب: ۲۰ - ۱۰ ج: ۸۵,۰۰۰ و ۳۰ - ۲۵۵,۰۰۰ د: کاهش قیمت از ۹۵,۰۰۰ ریال به ۸۵,۰۰۰ ریال

علوم و فنون ادبی



۲۱- درباره وضعیت فرهنگی «قرن چهارم و نیمه اول قرن پنجم هجری» کدام گزینه نادرست است؟

(۱) این دوره مهم‌ترین دوره تمدن اسلامی ایران بود.

(۲) نظم و نثر فارسی در این دوره شکوفا شد.

(۳) رسم‌ها و سنت‌های فرهنگ کهن ایرانی در این دوره با وجود مخالفت‌های دولت سامانی رواج یافت.

(۴) آثار ارزنده بسیاری به پارسی و عربی، در بخارا که عمده‌ترین مرکز فرهنگ اسلامی آن زمان بود، پدید آمد.

۲۲- عبارت زیر درباره کدام اثر صادق است؟

«از اشعار تعلیمی و اخلاقی به زبان پهلوی که در میان اندرزنامه‌های منثور قرار گرفته و اصل پارتی دارد.»

(۱) یادگار زریران (۲) اوستا (۳) هزار و یک شب (۴) کلیله و دمنه

۲۳- اثر زیر در چه تاریخی به رشته تحریر درآمده است؟

«پس امیر ابومنصور عبدالرزاق، دستور خویش، ابومنصورالمعمری را بفرمود تا خداوندان کتب را، از دهقانان و فرزنانگان و جهان‌دیدگان از

شهرها بیاورد و چاکر او ابومنصورالمعمری به فرمان او نامه کرد و کس فرستاد به شهرهای خراسان و هشیاران از آن جا بیاورد از هر جای و از

هر شارستان، گرد کرد و بنشاند به فراز آوردن این نامه‌های شاهان و کارنامه‌هایشان»

(۱) سال ۲۹۸ قمری (۲) سال ۳۶۴ قمری (۳) سال ۳۴۶ قمری (۴) سال ۳۶۶ قمری

- ۲۴- در همه گزینیه‌ها به ویژگی‌های «شعر دوره اول» اشاره شده است؛ به جز.....
- (۱) مهارت در توصیف
(۲) توجه نکردن به واقعیت‌های بیرونی
(۳) سادگی و روانی کلام
(۴) آوردن ترکیب‌های تازه
- ۲۵- نخستین منطقه ایران که زبان «فارسی دری» در آن رواج یافت کدام است؟
- (۱) غرب
(۲) مشرق و شمال شرقی
(۳) جنوب غربی
(۴) نواحی مرکزی
- ۲۶- فضای ابیات زیر کدام یک از «حالات روحی» را تداعی می‌کند؟
- «مرده بدم زنده شدم، گریه بدم خنده شدم
دیده سیر است مرا، جان دلیر است مرا
گفت که دیوانه نه‌ای لایق این خانه نه‌ای
گفت که سرمست نه‌ای رو که از این دست نه‌ای
- (۱) سرگشتگی و حیرت
(۲) غم و اندوه
(۳) توبه و ندامت
(۴) شادی و نشاط
- ۲۷- در کدام گزینیه آرایه «واژه‌آرایی» به کار رفته است؟
- (۱) خیزید روان شوید یاران
(۲) مباحث اندر این بوم، تیره روان
(۳) ز هر ناحیه کاروان‌ها روان
(۴) وعده اهل کرم، گنج روان
- ۲۸- کدام گزینیه، آراسته به آرایه «تشبیه» نیست؟
- (۱) تا بود بر دیگران وصلت حلال
(۲) مرا چو زندگی از یاد روی چون مه توست
(۳) دور از رخ تو دم‌بدم از گوشه چشمم
(۴) شاخ شمشاد است یا سرو سهی یا نارون
- ۲۹- کدام گزینیه با بیت «هر که می‌خواهد که از سنجیده‌گفتاران شود / بر زبان، بند گرانی از تأمل بایدهش» تناسب معنایی دارد؟
- (۱) هست بر نقص بصیرت رغبت دنیا دلیل
(۲) می‌فزاید دستگاه طاعت از درماندگی
(۳) از سبک سنگی چو کف با موج بودم هم‌عنان
(۴) نرم نتوانست کردن آن دل چون سنگ را
- ۳۰- مفهوم کدام گزینیه با بیت زیر نامتناسب است؟
- «گفت در پاسخ: که ما را باک نیست
(۱) زود می‌پیچم بساط خودنمایی را به هم
(۲) با جهان آب و گل دل‌بستگی نبود مرا
(۳) خاک پای سرو آزادم که با دست تهی
(۴) سینه‌ای چون صبح می‌خواهد قبول داغ عشق
- عارفان را خانه آلا خاک نیست»
گردبادم، نیست در خاک تعلق ریشهام
می‌توان چون مو برآورد از خمیر عالمم
سرفرازی بر درختان توانگر می‌کند
دیو پندارد سلیمانی به خاتم می‌شود



زبان عربی (اختصاصی)



■ عین الصحیح فی الترجمة أو المفهوم أو المفردات (۳۶ - ۳۱):

۳۱- «الإعصار الشديد الذي حدث في المنطقة سحبَ الأسماك إلى السماء وأخذها إلى مكانٍ يبعدُ مسافةً مئتي كيلومترٍ عن هنا!»:

- ۱) طوفان شدید که در منطقه ما اتفاق افتاد، ماهی‌ها را با خود به آسمان برده و آن‌ها را به مکانی انداخته است که صد کیلومتر از این‌جا دور است!
- ۲) گردباد شدید در منطقه رخ داد و ماهی‌ها را به آسمان جذب کرد و آن‌ها را به جای دور از این‌جا به فاصله دویست کیلومتر انداخت!
- ۳) طوفان شدیدی که در منطقه وزید، ماهی‌ها را به آسمان کشید و در مکانی به فاصله یکصد کیلومتر دورتر از این‌جا انداخت!
- ۴) گردباد شدیدی که در منطقه رخ داد، ماهی‌ها را به آسمان کشید و آن‌ها را به مکانی برد که به فاصله دویست کیلومتر از این‌جا دور است!

۳۲- «يحتفلُ الشعبُ الإيراني سنويًا اللَّيلةَ الأخيرةَ لفصل الخريف و اللَّيلةَ الأولى للشتاء و يجتمعون معًا للضيافة!»:

- ۱) ملت ایران سالانه شب آخر فصل پاییز و نخستین شب زمستان را جشن می‌گیرند و با هم برای مهمانی جمع می‌شوند!
- ۲) هر سال مردم ایران شب پایانی فصل پاییز را که نخستین شب زمستان هم هست، جشن گرفته و به دور هم برای مهمانی جمع می‌شوند!
- ۳) هر سال ملت ایران در شب آخر فصل پاییز و شب نخست زمستان گرد هم آمده و با هم مهمانی می‌گیرند!
- ۴) سالانه مردم ایران آخرین شب فصل پاییز و اولین شب از زمستان دور هم جمع می‌شوند و مهمانی می‌گیرند!

۳۳- «تجدُّ في هذه الحديقة الجميلة ستُّ عشرة شجرة مثمرة و ثمانية و ثلاثين وردة نادرة!»:

- ۱) در این باغ زیبا هجده درخت میوه‌دار و هشتاد و سه گل کمیاب هست!
- ۲) در آن باغ زیبا بیست و شش درخت ثمردار و سی و هشت گل نادر وجود دارد!
- ۳) در این باغ زیبا شانزده درخت ثمردار و سی و هشت گل کمیاب می‌یابی!
- ۴) شانزده درخت میوه‌دار و سی و هشت گل نادر در این باغ وجود دارد!

۳۴- عین الخطأ:

- ۱) كأنك لا تسمعین صوت المدرّسة جيّدًا! گویی تو صدای معلّم را خوب نمی‌شنوی!
- ۲) هذا الفلم يثيرُ عواطف المشاهدين! این فیلم احساسات تماشاگران را برانگیخت!
- ۳) يجري تيار الكهرباء في الأسلاك و يُنيرُ المصابيح! جریان برق در سیم‌ها جریان می‌یابد و چراغ‌ها را روشن می‌کند!
- ۴) إنتظر المسافرون في قاعة المطار و يشاهدون مرور الآخرين! مسافران در سالن فرودگاه منتظر بودند و عبور دیگران را تماشا می‌کردند!

۳۵- عین الخطأ في مفهوم الآية الشريفة: «لِمَ تَقُولُونَ ما لا تَفْعَلُونَ»

- ۱) الكلام لا يطعمُ خبزًا!
- ۲) دو صد گفته چون نیم کردار نیست!
- ۳) الكلام كالدواء؛ قليله ينفع!
- ۴) به عمل کار برآید به سخندانی نیست!

۳۶- عین الخطأ في الترادف أو التضاد:

- ۱) مسموح = ممنوع
- ۲) حاول = إجتهد
- ۳) فقد ≠ وجد
- ۴) أخذ ≠ جاء بـ

■ عین الصحیح في الجواب عن الأسئلة التالية (۴۰ - ۳۷):

۳۷- عین ما ليس فيه جمع سالم للمؤنث:

- ۱) ثمانون في المئة من موجودات العالم حشرات!
- ۲) الهاتف آلة تنقلُ الأصوات من مكان إلى مكان آخر!
- ۳) شاهدنا غابات مازندران الجميلة في سفرنا!
- ۴) لا يرمي زميلي التفایات في مكانها!

۳۸- عین ما جاء فيه فعلٌ من باب «انفعال»:

- ۱) رجاء! استمعوا إلى كلام فيه خيركم!
- ۲) العبد الصالح لا يقترّب من السيئات!
- ۳) إنكسرت أغصان الأشجار أمس بواسطة الرياح الشديدة!
- ۴) أمّي كانت تشتغل في إدارة الاتصالات خمس سنوات!

۳۹- عین الخطأ في استخدام العدد و المعدود:

- ۱) عندي اثنتان سيّارة أستفيدُ منهما بعض الأيام!
- ۲) هناك خمسة طيور على غصن الشجرة!
- ۳) كتب صديقي جملة فيها ثلاثة أخطاء!
- ۴) نجح فريقنا في المسابقة السادسة أخيرًا!

۴۰- عین ما ليس فيه اسم مثنى:

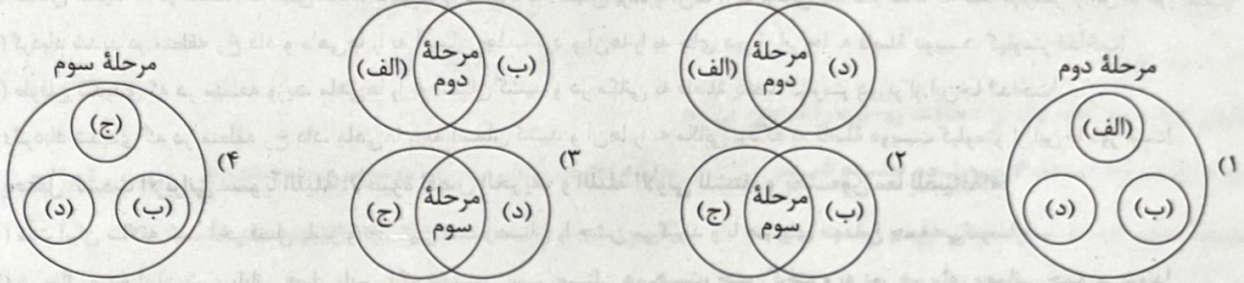
- ۱) لا تجتمعُ خصلتان في مؤمن: البخل و الكذب!
- ۲) رأيتُ عاملين يشتغلان في مصنع الكراسي!
- ۳) نزل المطر ليلة أمس لمُدّة ساعتين!
- ۴) متى ينتهي العدوان على الشعب المظلوم!

تاریخ



۴۱- با توجه به موارد زیر، کدام گزینه شکل درستی را از مراحل پژوهش‌های تاریخی نشان می‌دهد؟

(الف) پرسش از نقش گروه‌های درگیر در یک رویداد
(ب) پرسش از گرایش مذهبی نویسندگان منابع
(ج) بررسی اصالت سند تاریخی
(د) مشخص شدن هدف پژوهش



۴۲- کدام گزینه اشتراک گاه‌شماری‌های زیر را به درستی نشان می‌دهد؟

(الف) مصری (ب) اوستایی (ج) بابلی (د) قمری

- ۱) «ج» و «د» ← رواج در دوره اشکانیان - «الف» و «ب» ← تعداد روزهای ماه
- ۲) «الف» و «ب» ← پنج روز اضافی آخر سال - «ج» و «د» ← رواج در دوره اشکانیان
- ۳) «الف» و «ب» ← تعداد روزهای ماه - «د» و «الف» ← افزودن یک روز به سال هر چهار سال یک بار
- ۴) «د» و «الف» ← افزودن یک روز به سال هر چهار سال یک بار - «ب» و «ج» ← پنج روز اضافی آخر سال

۴۳- باستان‌شناسان پس از برخورد به اشیای تاریخی، به ترتیب چه مراحل را انجام می‌دهند؟

- ۱) عکس‌برداری ← ثبت مشخصات ← بیرون آوردن از دل خاک
- ۲) بیرون آوردن از دل خاک ← ثبت مشخصات ← عکس‌برداری
- ۳) بیرون آوردن از دل خاک ← ثبت مشخصات ← عکس‌برداری
- ۴) عکس‌برداری ← بیرون آوردن از دل خاک ← ثبت مشخصات

۴۴- درستی یا نادرستی عبارت‌های زیر درباره تمدن‌های نخستین در کدام گزینه مشخص شده است؟

(الف) جغرافیای تمدن بین‌النهرین محدود به سرزمین‌های میان دو رود دجله و فرات و بخشی از سرزمین‌های غرب فلات ایران است.
(ب) سارگن سرتاسر بین‌النهرین را به فرمان خود درآورد و امپراتوری بزرگی تشکیل داد که از سواحل غربی دریای مدیترانه تا کوه‌های زاگرس امتداد داشت.

(ج) شهر بابل، پایتخت آموری‌ها، به دلیل داشتن موقعیت مناسب اقتصادی، به یکی از مراکز بزرگ تجارت بین‌المللی در جهان باستان تبدیل شد و از ثروت و رفاه فراوانی برخوردار گردید.

(د) علاوه بر رود نیل که محیط مساعدی برای زندگی در مصر ایجاد کرده بود، موانع طبیعی مانند صحراهای گرم در شرق و غرب، دریای مدیترانه در شمال و صخره‌های جنوبی، این کشور را از تهاجم خارجی حفظ می‌کرد.

- ۱) «الف» برخلاف «ب» و همانند «ج» و «د» نادرست است.
- ۲) «ب» برخلاف «الف» و همانند «ج» و «د» نادرست است.
- ۳) «ب» همانند «ج» و «د» و برخلاف «الف» درست است.
- ۴) «الف» و «ب» همانند «ج» و «د» نادرست هستند.

۴۵- چه تعداد از عبارت‌های زیر، اطلاعات درستی را درباره کاهنان بین‌النهرین و مصر ارائه نمی‌دهند؟

(الف) کاهنان بین‌النهرین و به ویژه کاهن اعظم که معمولاً از دانش‌های عصر خود مطلع نبودند، به عنوان واسطه میان مردم و خدایان عمل می‌کردند و قدرت و ثروت فراوان داشتند.

(ب) کاهنان بین‌النهرین، در آغاز، پیشوایی دینی را بر عهده داشتند، اما سرانجام فرماندهان نظامی، قدرت را به دست گرفتند و فرمانروایی سیاسی به کاهنان واگذار شد.

(ج) کاهنان مصری پس از مرگ آمن‌هوتپ چهارم، دوباره پرستش چندخدایی را رایج کردند و نفوذ آنان کم‌تر از کاهنان یونان باستان بود.

(د) تمام کشتزارهای اطراف نیل متعلق به کاهنان بود و مردم مصر در این کشتزارها گندم، جو، خرما و میوه‌های دیگر را کشت می‌کردند.

- ۴ (۱) ۳ (۲) ۲ (۳) ۱ (۴)

- ۴۶- به ترتیب کدام بخش‌های هند به تصرف حکومت موریان، مقدونیان و هخامنشیان درآمدند؟
 (۱) سراسر هند به جز جنوب - بخش‌های وسیعی از هند - بخش‌هایی از شمال غرب هند
 (۲) سراسر هند به جز جنوب - سراسر هند - بخش‌هایی از شمال غرب هند
 (۳) شمال هند - بخش‌های وسیعی از هند - سراسر شمال غرب هند
 (۴) شمال هند - سراسر هند - سراسر شمال غرب هند
- ۴۷- کدام رویدادها به طور مشترک در یک دوره زمانی به وقوع پیوسته‌اند؟
 الف) ورود دسته‌هایی از اقوام آریایی از سمت شمال غرب به هند
 ب) فراهم آمدن زمینه پیدایش نخستین شهرها در چین
 ج) ورود طایفه‌های بیابانگردی از دشت‌های اروپای شرقی به شبه‌جزیره یونان
 د) گسترش قدرت آموری‌ها در مرکز بین‌النهرین
- ۴۸- کدام گزینه درباره پیشینه کشور چین به درستی بیان شده است؟
 (۱) الف - ج (۲) ب - د (۳) الف - ب (۴) ب - ج
- ۴۹- چه زمانی در پی کاوش‌های باستانی، آثار تمدنی کهن در جزیره کرت کشف شد، این تمدن در کجا واقع بود و مینوسیان چه زمانی در این منطقه، شهرهای خود را پایه‌گذاری کردند؟
 (۱) اواخر قرن بیستم - شمال یونان - پیش از مهاجرت اقوام هند و اروپایی به یونان
 (۲) اواخر قرن بیستم - جنوب یونان - پس از مهاجرت اقوام هند و اروپایی به یونان
 (۳) اوایل قرن بیستم - شمال یونان - پس از مهاجرت اقوام هند و اروپایی به یونان
 (۴) اوایل قرن بیستم - جنوب یونان - پیش از مهاجرت اقوام هند و اروپایی به یونان
- ۵۰- تحولات زیر به ترتیب مربوط به چه کسانی است؟
 الف) قرارگیری قدرت اجرایی روم در اختیار امپراتور
 ب) فراهم آمدن زمینه تقسیم امپراتوری روم به دو بخش شرقی و غربی
 ج) تضمین آزادی دین مسیحیت در محدوده امپراتوری روم
- (۱) اکتاوین - کنستانتین - کنستانتین
 (۲) اکتاوین - اکتاوین - کنستانتین
 (۳) کنستانتین - اکتاوین - اکتاوین
 (۴) کنستانتین - کنستانتین - اکتاوین

جغرافیا



- ۵۱- در مطالعه همه‌جانبه درباره وضعیت یک سکونتگاه، جغرافی‌دان برای بررسی کدام یک از متغیرهای زیر، از علوم و فنون جغرافیایی کمک می‌گیرد؟
 الف) بررسی امکان گسترش فیزیکی سکونتگاه
 ب) تأثیر عوامل محیطی بر فعالیت‌های اقتصادی ساکنان آن
 ج) مطالعه میزان منابع آب و ظرفیت و کیفیت آب منطقه
 د) بررسی اندازه جمعیت
- (۱) ب - ج (۲) الف - د (۳) الف - ب (۴) ج - د

* با توجه به متن زیر به سؤال‌های ۵۲ و ۵۳ پاسخ دهید.
 «شفق قطبی، نورهای خیره‌کننده و بسیار زیبا در آسمان است که شکل‌های منحنی‌مانند دارد. این پدیده، تقریباً هر شب در نزدیکی مدار قطب شمال و قطب جنوب قابل مشاهده است. شفق‌های قطبی توسط خورشید ایجاد می‌شوند.
 خورشید شامل گازهای خیلی داغ است که از ذرات بار الکتریکی به نام یون تشکیل شده‌اند. این یون‌ها دائماً از سطح خورشید جاری می‌شوند که به جریان این یون‌ها، باد خورشیدی گفته می‌شود. بادهای خورشیدی با نزدیک شدن به زمین توسط میدان مغناطیسی زمین به سمت قطب‌ها و یونوسفر منحرف می‌شوند. در مناطق قطبی، این یون‌های باردار با اتم‌های اکسیژن و نیتروژن برخورد کرده و باعث برانگیخته شدن و تابش نور آن‌ها می‌شود. این تابش نوری، شفق قطبی را تشکیل می‌دهد.»

(الف)

۵۲- کدام یک از سؤالات زیر از متن قابل برداشت نیست؟

- (۱) کجا؟ (۲) چه کسی؟ (۳) چه چیز؟ (۴) چرا؟

۵۳- در متن داده‌شده، عبارت «الف»
 (۱) بر ماهیت پدیده دلالت دارد. (۲) به چرایی وقوع پدیده پاسخ می‌دهد.

(۳) به روند زمانی موضوع اشاره دارد. (۴) به بررسی سیر تکوین و تحول پدیده می‌پردازد.

۵۴- چه تعداد از گزاره‌های داده‌شده، عبارت زیر را به درستی کامل می‌کند؟

«در بررسی و مقایسه دریای خزر و دریای عمان نمی‌توان گفت که»

(الف) امکان روابط بازرگانی دریایی، در دریای عمان بیشتر از دریای خزر است.

(ب) دریای خزر برخلاف دریای عمان، موقعیت نسبی ممتازی را برای ایران فراهم آورده است.

(ج) دریای عمان هم‌چون دریای خزر، به واسطه مجاورت با آب‌های آزاد، از نظر اقتصادی اهمیت زیادی برای ایران دارد.

(د) دریای خزر برخلاف دریای عمان، بزرگ‌ترین پهنه آبی محصور در خشکی است.

- (۱) ۳ (۲) ۱ (۳) ۴ (۴) ۲

۵۵- چه تعداد از عبارات‌های زیر درباره ناهمواری‌ها و مناطق کوهستانی ایران صحیح است؟

(الف) در ایران تعداد سکونتگاه‌ها در مناطق پایکوهی بیشتر و جمعیت در آن‌ها متراکم‌تر است.

(ب) ناهمواری‌های ایران بیشتر طی دوره‌های اول تا سوم زمین‌شناسی پدید آمده است و پیدایش نهایی آن‌ها مربوط به دوران سنوزوئیک است.

(ج) بخش اعظم ایران را نواحی مرتفع و کوهستانی تشکیل می‌دهد. این ناهمواری‌ها بر تشکیل اجتماعات انسانی، نوع معیشت مردم و حتی بر تاریخ کشور ما، تأثیرگذار بوده است.

(د) با توجه به تاریخچه زمین‌شناسی، تحولات ناهمواری‌ها، شکل و پراکندگی، کوهستان‌های ایران را به چهار منطقه کوهستانی تقسیم‌بندی کرده‌اند.

(ه) عواملی چون وجود ذخایر آب، ذخایر طبیعی و معدنی و هم‌چنین امکان فعالیت‌های دامداری، از جمله ارزش‌های اقتصادی نواحی کوهستانی به شمار می‌روند.

- (۱) ۵ (۲) ۳ (۳) ۲ (۴) ۴

۵۶- کدام گزینه درباره منطقه کوهستانی‌ای که قلّه «علم‌کوه» در آن واقع شده، صحیح است؟

(۱) منطقه آذربایجان را از کناره‌های دریای خزر جدا کرده است.

(۲) بخش اعظم این چین‌خوردگی وسیع، حاصل کوه‌زایی مواد رسوبی طی میلیون‌ها سال است.

(۳) کوه‌های این منطقه، در امتداد شمالی - جنوبی از تنگه منجیل شروع شده و تا کوه‌های شاه‌کوه در نزدیکی شاهرود ادامه دارند.

(۴) ناهمواری‌های این منطقه دو نوع است؛ بخشی به شکل کوه‌های چین‌خورده و برخی توده‌های نفوذی آذرین هستند.

۵۷- با توجه به علل پیدایش دشت‌ها در ایران، درستی (ص) یا نادرستی (غ) عبارات‌های زیر در کدام گزینه به درستی بیان شده است؟

(الف) دشت کاکان برخلاف دشت ارزن، در هنگام چین‌خوردگی‌ها و در حد فاصل تاقدیس‌ها ایجاد شده است.

(ب) در کرمانشاه هم‌چون فارس، دشت‌هایی وجود دارد که حاصل انحلال مواد آهکی و هموار شدن زمین‌ها است.

(ج) دشت نهاوند برخلاف ماهی‌دشت، بر اثر انباشت مواد حاصل از فرسایش در نواحی پست به وجود آمده است.

- (۱) ص - ص - ص (۲) ص - غ - غ (۳) غ - ص - غ (۴) غ - غ - ص



۵۸- چه تعداد از عبارات‌های زیر درباره «جلگه‌ها» نادرست است؟

- الف) سرزمین‌های ناهمواری هستند که برای انجام فعالیت‌های اقتصادی مناسب‌اند.
 ب) توفان‌ها و بادهای شدید، وسعت و مکان آن‌ها را تغییر می‌دهد.
 ج) ساختمان زمین و مقاومت سنگ، از مهم‌ترین علل پیدایش آن‌هاست.
 د) وسعت آن‌ها در نیمه جنوبی کشور ما بیشتر از نیمه شمالی است.

۱ (۴)

۲ (۳)

۳ (۲)

۴ (۱)

۵۹- کدام عبارت‌ها درباره «سرزمین‌های پست و هموار نواحی داخلی ایران» نادرست است؟

- الف) عمق آب و تراکم آب‌رفت، از مهم‌ترین علل پیدایش آن‌هاست.
 ب) حصارهای کوهستانی آن‌ها را فرا گرفته است.
 ج) از نظر وجود معادن گچ، نمک و مصالح ساختمانی حائز اهمیت‌اند.
 د) جمعیت زیادی را در خود جای داده‌اند.

۱ (۴) ج - ۵

۲ (۳) الف - ۵

۳ (۲) ب - ۵

۴ (۱) الف - ۵

۶۰- کدام گزینه عبارت زیر را به درستی کامل می‌کند؟

«از جمله تغییرات به وجود آمده در منطقه زاگرس در حال حاضر می‌توان به و اشاره کرد که»

- ۱) تشکیل شکل‌های جدیدی از ناهمواری - گسترش وقوع توفان‌های گرد و غبار - اولی در نتیجه تغییرات اقلیمی و دومی، تحت تأثیر عوامل طبیعی و انسانی پدید آمده است.
 ۲) گسترش سیلاب‌دشت‌ها - تشکیل شکل‌های جدیدی از ناهمواری - هر دو عامل نقش بسزایی در ناپایداری ناهمواری‌های این منطقه داشته‌اند.
 ۳) گسترش وقوع توفان‌های گرد و غبار - گسترش سیلاب‌دشت‌ها - دومی برخلاف اولی ناشی از فعالیت‌های نابخردانه انسانی است.
 ۴) شکل‌گیری گنبد‌های نمکی - افزایش طغیان رودهای منطقه - اولی تحت تأثیر تحولات زمین‌شناسی و دومی در پی گسترش سکونتگاه‌های شهری در کناره رودها بروز یافته‌اند.

جامعه‌شناسی



۶۱- پاسخ هر یک از پرسش‌های زیر، به ترتیب در کدام گزینه آمده است؟

- عبارت «دانشجویی که فارغ‌التحصیل مقطع کارشناسی شده ولی بر سر دوراهی ادامه تحصیل یا رفتن به سربازی است»، به کدام ویژگی کنش مربوط است؟

- ۱) چرا انسان‌ها از انجام برخی کنش‌ها، خودداری می‌کنند؟
 ۲) رفتن دانش‌آموز به مسجد جمکران، به قصد خواندن دعای توسل، بیانگر کدام ویژگی کنش می‌باشد؟
 ۳) پیامدهای غیرارادی کنش انسان، چه ویژگی‌هایی دارد؟

۱) هدفدار بودن - به دلیل پیامدهای غیرطبیعی کنش - هدفدار بودن - به اراده افراد دیگر وابسته است.
 ۲) هدفدار بودن - به دلیل ناآگاهانه بودنشان - آگاهانه بودن - نتیجه حتمی کنش‌اند.

۳) ارادی بودن - به دلیل پیامدهای غیرارادی کنش - آگاهانه بودن - به اراده کنشگر بستگی دارد.
 ۴) ارادی بودن - به دلیل پیامدهای نامطلوبشان - هدفدار بودن - نتیجه طبیعی کنش‌اند.

۶۲- به ترتیب هر یک از عبارات‌های زیر، به کدام گزینه مربوط می‌شود؟

- ۱) آگاهی و اراده کنشگر، ناظر به دیگران، ویژگی‌ها و اعمال آن‌هاست.
 ۲) در این دسته از خانواده‌ها، از تمرکز افراطی والدین بر فرزند یا فرزندان کاسته می‌شود.
 ۳) خردترین و کوچک‌ترین پدیده اجتماعی که سایر پدیده‌ها، آثار و پیامدهای آن می‌باشد.
 ۴) شیوه انجام کنش که مورد قبول افراد قرار گرفته و در هر جامعه‌ای، شیوه‌های معینی دارد.


- ۱) کنش اجتماعی - خانواده‌های تک‌فرزند - نظام خانواده - هنجار اجتماعی
 ۲) پدیده اجتماعی - خانواده‌های چندفرزندی - نظام خانواده - ارزش اجتماعی
 ۳) کنش اجتماعی - خانواده‌های چندفرزندی - کنش اجتماعی - هنجار اجتماعی
 ۴) پدیده اجتماعی - خانواده‌های تک‌فرزند - کنش اجتماعی - ارزش اجتماعی

۶۳- تعداد عبارتهای صحیح را مشخص کنید و کدام گزینه به ترتیب درست (ص) یا نادرست (غ) بودن عبارتهای زیر را به درستی نشان می‌دهد؟

- الف) ازدواج و تشکیل خانواده، یکی از زمینه‌های پیوند میان انسان‌ها و گذر از «ما» به «من» است.
- ب) هرگاه یک نسل نتواند فرهنگ خود را حفظ کند، ممکن است جهان اجتماعی آن به جهان اجتماعی دیگری تبدیل شود.
- ج) ارزش‌ها و هنجارهای اجتماعی، از طریق کنش‌های اجتماعی تحقق می‌یابند.
- د) ارزش‌های اجتماعی از طریق وراثت یعنی فرآیند به ارث رسیدن، از نسلی به نسل دیگر منتقل می‌شود.

۱) ۲- غ - ص - ص - غ ۲) ۳- ص - ص - ص - غ ۳) ۲- غ - غ - ص - ص ۴) ۱- غ - غ - ص - غ

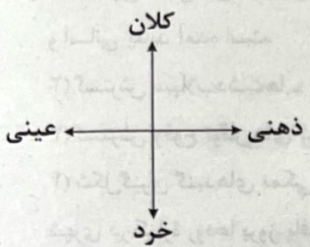
۶۴- با توجه به نمودار زیر، کدام گزینه درست می‌باشد؟



- ۱) فرشتگان و جهان ماوراءطبیعی با انسان‌های شاکر و ناسپاس و جوامع عادل و ظالم، یکسان عمل نمی‌کنند.
- ۲) آلودگی طبیعت و محیط زیست، نتیجه کارهای شتابزده و نابخردانه انسان‌هاست.
- ۳) سنت‌ها و قوانین الهی، درهای آسمان را بر عدالت‌پیشگان می‌گشاید و ستم‌پیشگان را در قهر و انتقام الهی فرو می‌گذارد.
- ۴) زلزله و خشکسالی با این‌که پدیده‌های طبیعی‌اند، تأثیرات تعیین‌کننده‌ای در کنش‌های اجتماعی انسان‌ها دارند.

۶۵- با توجه به نمودار زیر، هر یک از مفاهیم زیر، به ترتیب در کدام قسمت قرار می‌گیرند؟

- متأثر شدن مردم جهان از وقایع غزه
- سرمایه اجتماعی
- تصور من از استاد دانشگاه خودم
- هدیه جشن تولد



- ۱) کلان و ذهنی - ذهنی و خرد - خرد و عینی - عینی و ذهنی
- ۲) کلان و عینی - عینی و خرد - خرد و کلان - کلان و ذهنی
- ۳) کلان و عینی - کلان و ذهنی - کلان و عینی - خرد و ذهنی
- ۴) کلان و ذهنی - کلان و عینی - خرد و ذهنی - خرد و عینی

۶۶- «احترام به قانون» و «امنیت»، به ترتیب و هستند. تمامی ، هویتی معنایی و ذهنی دارند، از این‌رو، هیچ‌یک از اجزای فاقد معنا نیستند؛ اما همه ، بُعد محسوس و عینی ندارند.

- ۱) کنش اجتماعی - حاصل کنش‌های اجتماعی - نهادهای اجتماعی - نهاد اجتماعی - کنش‌های اجتماعی
- ۲) حاصل کنش اجتماعی - کنش اجتماعی - پدیده‌های اجتماعی - جهان اجتماعی - لایه‌های سطحی جهان اجتماعی
- ۳) کنش اجتماعی - حاصل کنش‌های اجتماعی - پدیده‌های اجتماعی - جهان اجتماعی - پدیده‌های اجتماعی
- ۴) حاصل کنش اجتماعی - کنش اجتماعی - نهادهای اجتماعی - نهاد اجتماعی - لایه‌های عمیق جهان اجتماعی

۶۷- کدام‌یک از عبارتهای زیر با بقیه عبارتها سازگار نیست؟

- ۱) فرهنگ‌ها و تمدن‌ها، براساس آرمان‌ها و ارزش‌های خود، تحولاتی را دنبال می‌کنند و مسیرهای مختلفی را می‌پیمایند.
- ۲) اروپایی‌ها یک ضرب‌المثل قدیمی دارند که «همه راه‌ها به رم ختم می‌شود».
- ۳) از دیدگاه دورکیم، در جوامع ارگانیکی، تقسیم کار گسترده‌ای وجود دارد ولی در جوامع مکانیکی، تقسیم کار شکل نگرفته و یا در حد ساده است.
- ۴) عده‌ای باورشان این است که جهان‌های اجتماعی، تاریخ و سرگذشت یکسانی دارند.

۶۸- نظم و همکاری میان اعضای موجود زنده، است و انسان، جهان‌های اجتماعی را پدید می‌آورد. عواملی مانند و ، سبب پیدایش جهان‌های اجتماعی مختلف می‌شود.

- ۱) متنوع - یکسانی - مهارت‌های ارادی و اکتسابی آدمیان - تنوع هویت‌ها و فرهنگ آدمیان
- ۲) متفاوت - یکسانی - تنوع نژادها و زبان‌های آدمیان - تنوع آگاهی و معرفت انسان‌ها
- ۳) متنوع - متفاوتی - عقاید، ارزش‌ها و آرمان‌های کلان - تنوع نژادها و زبان انسان‌ها
- ۴) یکسان - متنوعی - تنوع آگاهی و معرفت انسان‌ها - تنوع اراده و اختیار انسان‌ها

- ۶۹- به ترتیب هر یک از گزاره‌های «جهان متجدد، فقط این علوم را علم می‌داند»، «در نگاهش آدمی آب و گل است / کاروان زندگی بی‌منزل است»، «جهان متجدد» و «طبیعت صرفاً ماده خامی است که انسان به میل خود می‌تواند در آن دخل و تصرف کند» به کدام گزینه اشاره دارند؟
- (۱) علومی که از روش عقلانی و وحیانی استفاده می‌کنند - بسط و توسعه عقلانیت ابزاری - اروپای پنج قرن اخیر - جهان اساطیری
 (۲) علومی که با روش‌های تجربی به دست می‌آیند - طرد عناصر مقدس و معنوی - جهان غرب چهارصد سال اخیر - فرهنگ سکولار
 (۳) علومی که اهداف دنیوی را به وسیله علوم تجربی تعقیب می‌کنند - زوال عقلانیت ذاتی - غرب بعد از رنسانس - فرهنگ اساطیری
 (۴) علومی که از روش‌های فراتجربی استفاده می‌کنند - گسترش عقلانیت ابزاری - غرب پنج دهه اخیر - جهان دنیوی
- ۷۰- هر جهان اجتماعی تا زمانی که از طریق افراد پابرجاست، پیامدهای آن نیز باقی است. با تغییر و در پی آن، برداشته شدن الزام‌هایش، شکل می‌گیرد و الزام‌های دیگری به دنبال می‌آورد که بر اعضای آن تأثیر می‌گذارد.

- (۱) کنش‌های اجتماعی - جهان اجتماعی جدید - جهان اجتماعی فعالی - فعالیت اجتماعی
 (۲) فعالیت اجتماعی - جهان اجتماعی موجود - جهان اجتماعی نوینی - آگاهی و اراده
 (۳) مشارکت اجتماعی - جهان اجتماعی موجود - جهان اجتماعی جدیدی - فعالیت اجتماعی
 (۴) کنش‌های اجتماعی - جهان اجتماعی جدید - جهان اجتماعی خلاق - آگاهی و اراده

منطق



- ۷۱- در کدام گزینه به تفاوت تصور با تصدیق به درستی اشاره شده است؟

- (۱) هر تصویری، مفهومی کلی و هر تصدیقی مفهومی جزئی است.
 (۲) تصور، صدق یا کذب‌بردار نیست، اما تصدیق همواره صادق است.
 (۳) در تصور، حکم مد نظر نیست، اما در تصدیق حکم حضور دارد.
 (۴) تصور، صدق یا کذب‌پذیر است، اما تصدیق همواره صادق است.

- ۷۲- بحث تعریف تعریف و استدلال، بلافاصله بعد از کدام موضوع قابل طرح است؟

- (۱) تفکیک و تمایز بین دو مبحث تصور و تصدیق
 (۲) آشنایی با مبحث قضایا و اقسام قضیه
 (۳) آشنایی با تعریف، هدف و کاربرد دانش منطق
 (۴) جداسازی مبحث مفاهیم از مبحث الفاظ

- ۷۳- در کدام گزینه، به ترتیب، وجود لفظی، ذهنی و خارجی کلمات مشخص شده، دقیق ذکر شده است؟

- (۱) اهواز اسم و مفهومی جزئی است و در استان خوزستان واقع است.
 (۲) دیو تصویری خیالی و مفهومی کلی است و سه حرف دارد.
 (۳) احمد پسر خوشتیپ و عاشق موسیقی، اما اسمی بدون نقطه است.
 (۴) بابک معرب نام ایرانی پاپک است و در لغتنامه به معنی پدر آمده است.

- ۷۴- به ترتیب، در ابیات زیر، احتمال وقوع کدام نوع مغالطه وجود دارد؟

- (الف) سرشک گوشه‌گیران را چو دریابند، دریابند / رخ مهر از سحرخیزان نگردانند، اگر دانند
 (ب) شکر کند چرخ فلک، از ملک و ملک و ملک / کز کرم و بخشش او، روشن و بخشنده شدم
 (ج) صد هزاران گل شگفت و بانگ مرغی برنخاست / عندلیبان را چه پیش آمد، هزاران را چه شد

- (۱) اشتراک لفظ - نگارشی کلمات - اشتراک لفظ
 (۲) نگارشی کلمات - نگارشی کلمات - نگارشی کلمات
 (۳) اشتراک لفظ - اشتراک لفظ - نگارشی کلمات
 (۴) نگارشی کلمات - اشتراک لفظ - نگارشی کلمات

- ۷۵- واژه «دست» در کدام عبارت به دلالت لفظ بر جزئی از معنای اصلی اشاره می‌کند؟

- (۱) از دست بهار از قدحی باده فرو ریخت
 (۲) دوست آن باشد که گیرد دست دوست
 (۳) گرت ز دست برآید چو نخل باش کریم
 (۴) گر دست چیم بشکست ای خواجه غمی نیست

- ۷۶- عبارت «هر الف ب است» در چه حالاتی از نسب اربع میان «الف» و «ب» درست است؟
- (۱) تساوی - عموم و خصوص مطلق
(۲) تباین - عموم و خصوص مطلق
(۳) تساوی - عموم و خصوص من وجه
(۴) تباین - عموم و خصوص من وجه
- ۷۷- نسبت هر طبقه از مفاهیم نسبت به مفاهیم زیرمجموعه خود در طبقه دیگر مانند کدام مورد است؟
- (۱) علم < تصدیق < تعریف < تعریف دوری
(۲) بیماری < بیماری ویروسی < آنفلوانزا < آریون
(۳) مفهوم < مفهوم کلی < عدد < عدد دو
(۴) جانداران < جانوران < پرندگان دارای پر < خفاش
- ۷۸- با توجه به دسته‌بندی مفاهیم از عام به خاص، رابطه صحیح بین مفهوم و مصداق کدام است؟
- (۱) اگر مفهوم مرکب‌تر باشد، مصداق هم مرکب‌تر خواهد بود.
(۲) بین مفهوم و مصداق ضرورتاً نسبت معکوس وجود دارد.
(۳) اگر مفهوم محدودتر شود، مصداق هم محدودتر خواهد شد.
(۴) بین مفهوم و مصداق ضرورتاً هیچ رابطه‌ای وجود ندارد.
- ۷۹- کدام عبارت درست است؟
- (۱) هرگز نمی‌توان دو شرط از شرایط تعریف صحیح را در کنار یکدیگر ذکر کرد یا آن‌ها را با نسبت‌های چهارگانه مقایسه کرد.
(۲) اگر در بحثی، تعریف مفاهیم روشن بود، رسیدن به فهم مشترک آسان‌تر می‌شود و تعریف ما ضرورتاً صحیح خواهد بود.
(۳) هنگام تعریف یک مفهوم، به ویژه در تعریف‌های لغوی و مصداقی، لازم است تمام شرایط تعریف صحیح رعایت شود.
(۴) رابطه تعریف صحیح با آنچه تعریف می‌شود، از نظر مصداق مانند رابطه مصداق دو مفهوم مثلث و شکل سه‌ضلعی است.
- ۸۰- در تعریف «حافظه» به «توانایی مغز در به خاطر سپردن آموخته‌ها» چه خطایی از لحاظ تعریف رخ داده است؟
- (۱) تعریف اعم است و مانع نیست.
(۲) تعریف اخص است و جامع نیست.
(۳) تعریف به دور شده است.
(۴) تعریف استعاره‌ای است و واضح نیست.

